


Wochenplan vom 25.1.21 bis 29.1.21

	Montag, 25.1.21	Dienstag, 26.1.21	Mittwoch, 27.1.21	Donnerstag, 28.1.21	Freitag, 29.1.21
Deutsch	<p>AB (Räseltext)</p> <p>Schreibe den Räseltext fehlerfrei ins Schreibheft.</p>	<p>2 AB (Verben + Verben erkennen)</p>	<p><u>Lernvideo:</u> Zusammengesetzte Nomen</p> <p>AB (Zusammengesetzte Nomen kennenlernen) → Einschicken über OSS!</p> <p>RS S. 10</p>	<p>RS S. 11,12</p>	<p>RS S. 13,14</p>
Mathe	<p>RR S. 15</p>	<p><u>Lernvideo:</u> Zehnerüberschreitung</p> <p>RR S. 16, 17</p>	<p>RS S. 18, 19</p> <p><u>Tipp:</u> S. 19 Nr. 2: Eigene Zehnerzahlen ausdenken und vorgegebene Einer für eine Zehner-Einer-Zahl ablesen. Dies ist dann die Startzahl.)</p>	<p>RR S. 20, 21</p>	<p>AB (Päckchenschreibweise)</p> <p>→ Einschicken über OSS!</p>
Sachunterricht	<p><u>Lernvideo:</u> Checker Tobi - Sinnecheck</p>	<p>AB (Infotext: Die fünf Sinne) </p> <p>AB (Die fünf Sinne) → Einschicken über OSS!</p>			<p>AB (Unsere Sinnesorgane)</p>



3 Löse das Rätsel. Dann umkreise alle 16 Buchstaben, die du großschreiben musst. Schreibe das Rätsel richtig in dein Heft.

DIESE VÖGEL SIND GROß UND LAUT.
GESICHT UND FEDERN SIND WEIß.
SIE GEHEN GERN, ABER NICHT GUT.
SIE FRESSEN GEMÜSE, GETREIDE UND
GRÜNES GRAS.
IHR LIEBLINGSESSEN SIND DIESE
WEIßEN BLÜMCHEN AUF DER WIESE.
DIE BLUMEN HEIßEN DESHALB AUCH

_____BLÜMCHEN.

(39 Wörter)

Lösung: Die Vögel heißen _____.



Verben

- 1 In jeder Reihe befindet sich ein Kuckucksei.
Streiche es durch.

laufen springen hüpfen ~~langsam~~ rennen spazieren

lachen lustig kichern grinsen schmunzeln lächeln

wimmern jammern heulen weinen traurig schluchzen

sprechen flüstern leise plappern reden schwatzen

frühstücken fressen löffeln appetitlich speisen essen

- 2 Ergänze die Sätze sinnvoll. Verwende die passende Verbform.

flüstern jammern ~~laufen~~ frühstücken lachen



Markus und Anja laufen miteinander um die Wette.
Nina läuft den beiden hinterher.



Viele _____ schallend über den lustigen Clown.
Der Clown _____ jedoch nicht mit.



Viele Autofahrer _____ über die Benzinpreise.
Mein Vater _____ über das schlechte Wetter.



Im Kino _____ die Zuschauer miteinander.
Jens _____ Noemi etwas ins Ohr.



Am Sonntag _____ wir alle zusammen.
Nur Tante Berta _____ lieber allein.

4

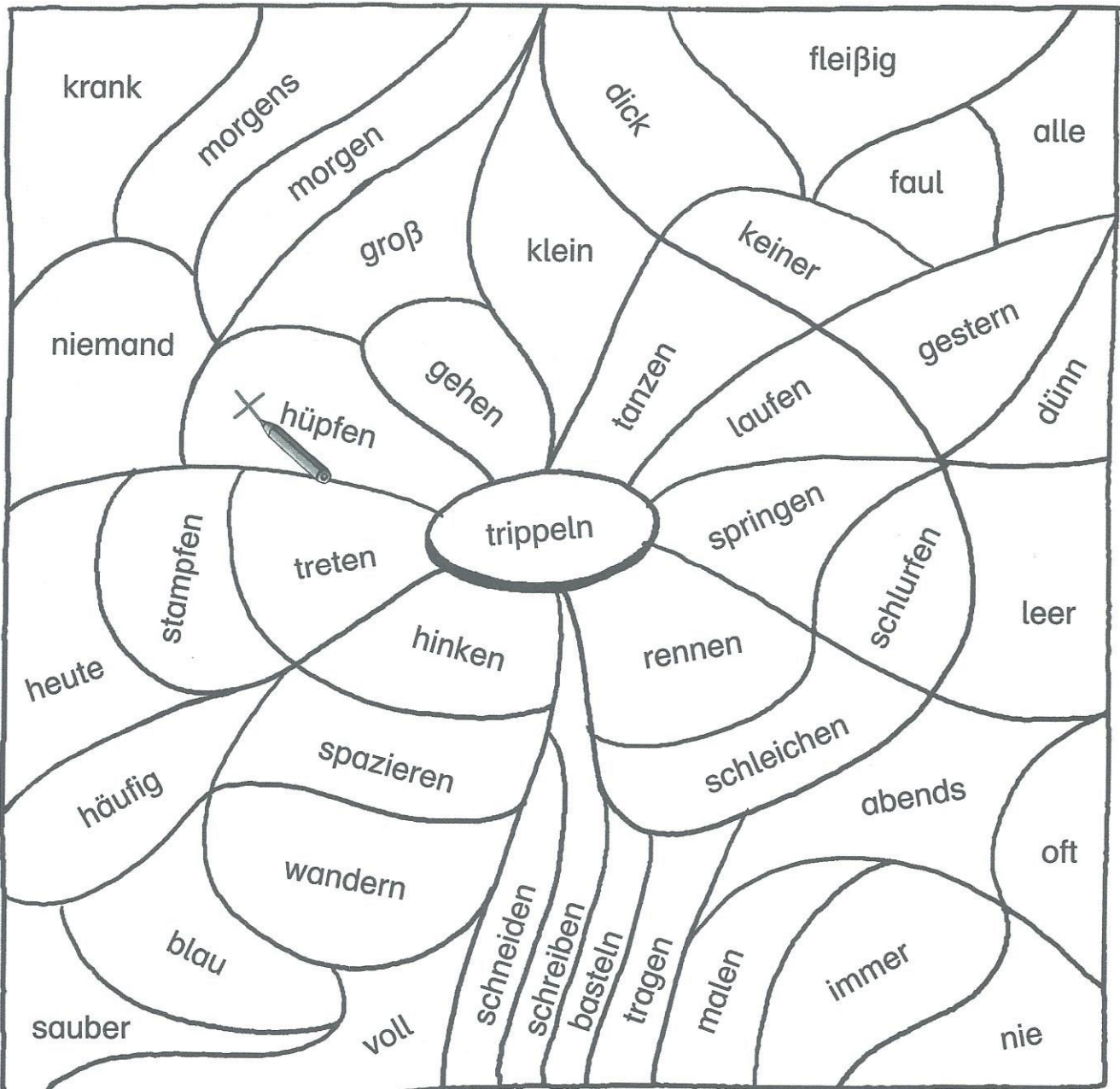
Verben erkennen



Name: _____

Datum: _____

- 1 Kreuze alle Felder mit Verben an.
- 2 Male die Felder mit Verben, die beschreiben, was du mit den Füßen tun kannst, rot aus.
- 3 Male die Felder mit Verben, die beschreiben, was du mit den Händen tun kannst, grün aus.
- 4 Male die Felder, in denen keine Verben stehen, blau aus.



© 2015 Cornelsen Schulverlage GmbH, Berlin.
Alle Rechte vorbehalten.

Autoren: Roland Bauer und Jutta Maurach
Illustration: Yo Rühmer

Name:

Klasse:

Datum:

Die fünf Sinne

Die Sinnesorgane des Menschen



Der Hörsinn

Mit unseren Ohren können wir hören. Wir unterscheiden dabei zwischen verschiedenen Arten von Geräuschen, Tönen und Klängen sowie laut und leise als auch hoch und tief.



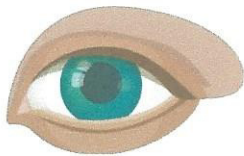
Der Geruchssinn

Mit unserer Nase können wir riechen. Sowohl angenehme Düfte als auch eklig stinkende Gerüche können wir wahrnehmen. Außerdem atmen wir durch die Nase.



Der Geschmackssinn

Mit unserer Zunge können wir schmecken. Geschmacksrichtungen wie süß, salzig, sauer oder bitter erkennt unsere Zunge. Des Weiteren hilft uns die Zunge beim Kauen, Sprechen und Schlucken.



Der Sehsinn

Mit unseren Augen können wir sehen. Dabei nehmen wir verschiedene Formen, Farben und Bewegungen wahr. Bei Nacht fällt uns dies jedoch deutlich schwerer.



Der Tastsinn

Mit unserer Haut können wir fühlen. Wir empfinden nicht nur Schmerz, wenn uns etwas weh tut, sondern merken auch, ob etwas nass, kalt, hart oder weich ist.

Name:

Klasse:

Datum:

Die fünf Sinne

1 Wie heißen die Sinnesorgane und was ist ihre Aufgabe?



Name: _____

Aufgabe: _____

2 Mit welchen Sinnen kannst du die Abbildungen erleben? Kreuze an.

riechen

hören

sehen

fühlen

schmecken



3 Welches Sinnesorgan trifft auf die Eigenschaften zu?

nah, fern, hell, dunkel - _____

laut, hoch, leise, tief, taub - _____

eklig, einatmen, frisch, ausatmen - _____

süß, bitter, salzig, sauer - _____

hart, warm, weich, kalt, spitz - _____

Name:

Klasse:

Datum:

Die fünf Sinne

Namen und Funktionen der fünf Sinne



Aufgabe: Ordne die Begriffe richtig zu.

Ohr, riechen, Tastsinn, hören, Nase, Sehsinn, Zunge, Geschmackssinn, schmecken, Auge, Haut, Geruchssinn, sehen, Hörsinn, fühlen

Körperteil
- Organ -

Sinn

Funktion







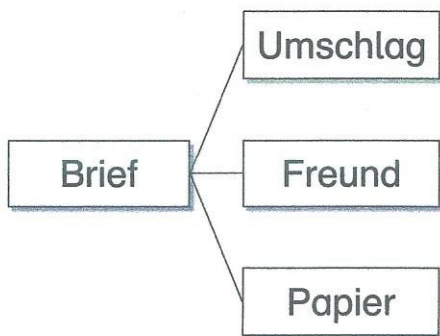






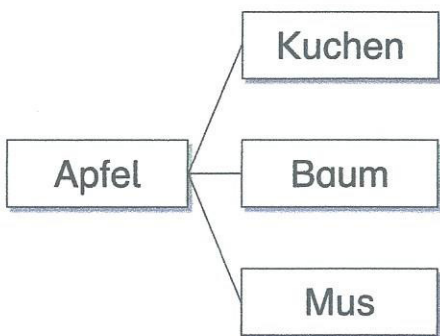

Name: _____ Datum: _____


1 Bilde zusammengesetzte Nomen und schreibe sie auf.



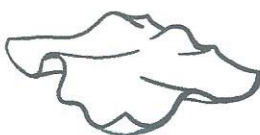
Briefumschlag

B






Tuch





Jacke



$$56 + 8 = \square$$

$$\square + \square = \square$$

$$\square + \square = \square$$

$$77 + 6 = \square$$

$$\square + \square = \square$$

$$\square + \square = \square$$

$$45 + 8 = \square$$

$$\square + \square = \square$$

$$\square + \square = \square$$

$$28 + 4 = \square$$

$$\square + \square = \square$$

$$\square + \square = \square$$

$$34 + 9 = \square$$

$$\square + \square = \square$$

$$\square + \square = \square$$

$$68 + 4 = \square$$

$$\square + \square = \square$$

$$\square + \square = \square$$

$$55 + 7 = \square$$

$$\square + \square = \square$$

$$\square + \square = \square$$

$$83 + 9 = \square$$

$$\square + \square = \square$$

$$\square + \square = \square$$

$$76 + 6 = \square$$

$$\square + \square = \square$$

$$\square + \square = \square$$



$$34 + 9 = \square$$

$$\square + \square = \square$$

$$\square + \square = \square$$

$$28 + 7 = \square$$

$$\square + \square = \square$$

$$\square + \square = \square$$

$$59 + 9 = \square$$

$$\square + \square = \square$$

$$\square + \square = \square$$

$$15 + 6 = \square$$

$$\square + \square = \square$$

$$\square + \square = \square$$

$$47 + 8 = \square$$

$$\square + \square = \square$$

$$\square + \square = \square$$

$$66 + 7 = \square$$

$$\square + \square = \square$$

$$\square + \square = \square$$

$$77 + 5 = \square$$

$$\square + \square = \square$$

$$\square + \square = \square$$

$$14 + 8 = \square$$

$$\square + \square = \square$$

$$\square + \square = \square$$

$$57 + 6 = \square$$

$$\square + \square = \square$$

$$\square + \square = \square$$

$$82 + 9 = \square$$

$$\square + \square = \square$$

$$\square + \square = \square$$

$$25 + 9 = \square$$

$$\square + \square = \square$$

$$\square + \square = \square$$

$$58 + 6 = \square$$


$$\square + \square = \square$$

$$\square + \square = \square$$

$$36 + 7 = \square$$

$$\square + \square = \square$$

$$\square + \square = \square$$



$$44 + 8 = \square$$

$$\square + \square = \square$$

$$\square + \square = \square$$

$$63 + 9 = \square$$

$$\square + \square = \square$$

$$\square + \square = \square$$

$$89 + 3 = \square$$

$$\square + \square = \square$$

$$\square + \square = \square$$

$$77 + 6 = \square$$

$$\square + \square = \square$$

$$\square + \square = \square$$

$$35 + 7 = \square$$

$$\square + \square = \square$$

$$\square + \square = \square$$

$$68 + 5 = \square$$

$$\square + \square = \square$$

$$\square + \square = \square$$

$$46 + 6 = \square$$

$$\square + \square = \square$$

$$\square + \square = \square$$

$$84 + 9 = \square$$

$$\square + \square = \square$$

$$\square + \square = \square$$

Unsere Sinnesorgane (Klasse 1/2)

1. Welche fünf Sinnesorgane helfen dir, die Welt zu erleben?

2. Was kannst du mit den Sinnesorganen tun? Verbinde:



schmecken


sehen

hören

fühlen

riechen

3. Mit welchen Sinnen kannst du eine Orange erleben?



Eine Orange kann ich

4. Was geschieht, wenn ein Sinnesorgan nicht richtig funktioniert?

Wenn ich nicht gut sehe, brauche ich eine

Menschen, die gar nicht sehen können, sind

Wenn ich nicht gut höre, brauche ich ein

Menschen, die gar nicht hören können, sind
